


Weegschaal

Hoeveel varkens moeten er op de plaats van het vraagteken komen om de derde weegschaal in evenwicht te houden?



PUZZEL

1


**Oplossing van
puzzel 255:**

3 en 4.

Voor iedereen hetzelfde

De burgemeester van een atypisch dorpje wil dat ieder perceel er hetzelfde uitziet zodat niemand jaloers hoeft te zijn. De percelen bestaan uit een landbouwer, zijn hond, een kip, een boom en een leeg veld waar een schuur komt te staan als de oogst goed is geweest.

Kun je de vier percelen afbakenen, wetende dat ze alle elementen slechts één keer bevatten en dat hun oppervlakte gelijk is aan vijf vakjes?



PUZZEL

2

Oplossing van puzzel 1:

3 varkens.

De juiste formule

Welke regel moet geschrapt worden zodat de rekening klopt?

7	9	6	2	5	A
---	---	---	---	---	----------

+	4	4	6	2	5	B
---	---	---	---	---	---	----------

+	3	3	6	2	5	C
---	---	---	---	---	---	----------

+	1	2	6	2	5	D
---	---	---	---	---	---	----------

+	1	2	6	2	5	E
---	---	---	---	---	---	----------


+	2	2	6	2	5	F
---	---	---	---	---	---	----------

=	1	8	3	1	2	5
---	---	---	---	---	---	---

PUZZEL

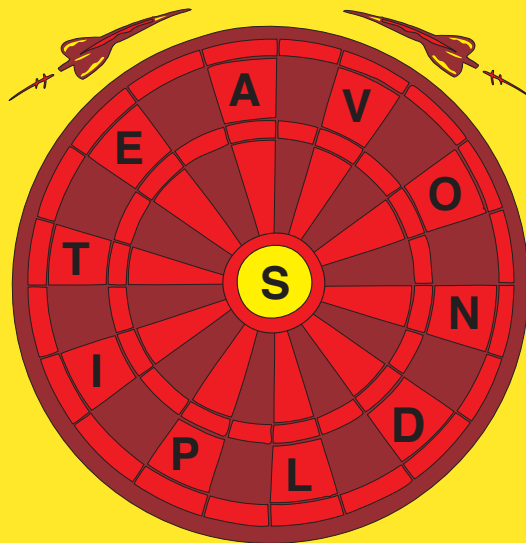
3

Oplossing van puzzel 2:



In de roos

Vervang twee van de letters in de rand van het dartsbord door de letter in het midden en vind zo een woord van 10 letters.



PUZZEL

4

Oplossing van puzzel 3:

F = 22.625.



Hij komt 's avonds wel eens voor.

Leidraad

Volg deze drie symbolen



horizontaal en verticaal.
Respecteer hun volgorde
en vind zo de uitgang.



PUZZEL


5

Oplossing van puzzel 4:

AVONDSPITS.

Rekenmachines

Wat is het verband tussen deze rekenmachines?



PUZZEL

7

Oplossing van puzzel 6:

1 en 2.



Bijvoorbeeld: de blauwe rekenmachine plus de rode rekenmachine is gelijk aan de groene min de gele.

Antieke klok

Op een stormachtige avond komt Jan moeilijk in slaap.

Hij houdt zich dan maar bezig met de tijd te meten die de klok nodig heeft om een aantal slagen te geven. Hij stelt vast dat de klok 6 slagen geeft in 5 seconden.

Hoeveel slagen zal diezelfde klok 's middags geven?



PUZZEL

8

Oplossing van puzzel 7:

De rode rekenmachine vermenigvuldigd met de gele plus de blauwe is gelijk aan de groene. Of de groene min de blauwe is gelijk aan de rode vermenigvuldigd met de gele.



Let op de intervallen tussen de slagen. Per 6 slagen zijn er 5 intervallen.